







Dựa vào các dữ kiện phía dưới, bạn hãy tìm ra số tuổi của từng chú Robot và "tick" vào ô tương ứng nhé!

Tính tuổi ROBOT

3 4 5 6 8

Các dữ kiện:

1. Tuổi của Robot đỏ là một số lẻ.
2. Robot xanh dương lớn hơn Robot xanh lá 1 tuổi, và nhỏ hơn Robot vàng 2 tuổi.
3. Robot xanh lá được sản xuất cách đây 5 năm.



Bạn hãy tìm và khoanh lại các từ tiếng Anh về chủ đề sinh nhật trong chiếc bánh ngọt ngào dưới đây nhé!

birthday	friends	hat
cake	fun	present
candles	games	sing



